


1] Trace au crayon de papier et avec ton double-décimètre puis complète les mesures :

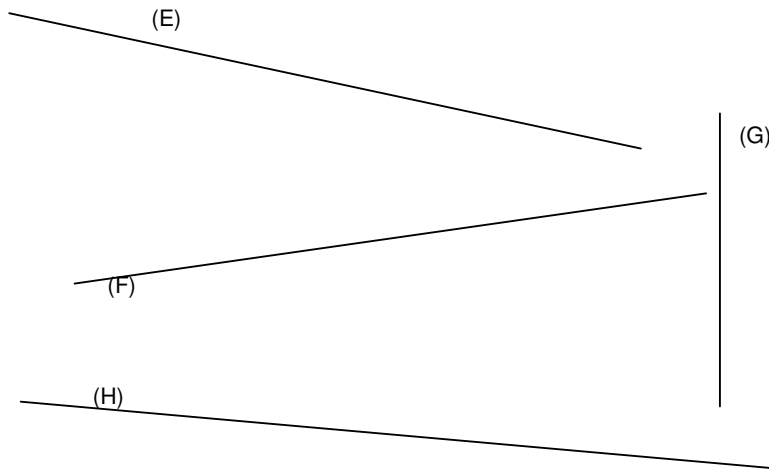
Trace une ligne (A) *plus longue* que la ligne (B) **mais** *plus courte* que la ligne (C)



Mesure de la ligne C : ; Mesure de la ligne B :

Mesure de la ligne A :

2] Mesure les lignes suivantes avec précision



lignes	mesures
(E)	
(F)	
(G)	
(H)	

➔ *Quelle est la ligne la plus courte ? (Réponds par une phrase complète)*

.....

➔ *Quelle est la ligne la plus longue*

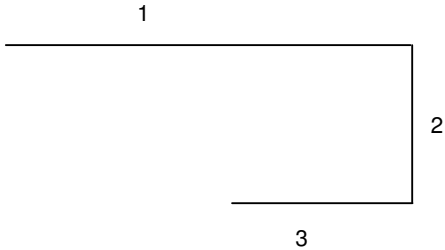
.....

3] Trace ci-dessous

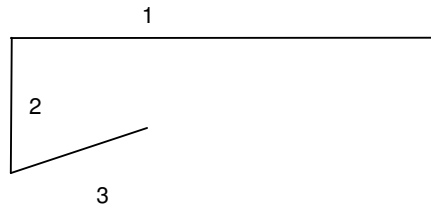
- Une ligne (G) de 12 cm.
- Une ligne (M) de 1dm 5cm
- Une ligne (P) de 15mm

4] Quelle est la ligne brisée la plus longue ?

Ligne brisée A



Ligne brisée B



Mesure 1 :

Mesure 1 :

Mesure 2 :

Mesure 2 :

Mesure 3 :

Mesure 3 :

Calculs :

Calculs :

La ligne brisée A mesure

La ligne brisée B mesure

Réponse à la question posée :

5] Connais-tu les abréviations ? Ecris les mots en entier. (Tu peux t'aider de la leçon)

dam
▼

m
▼

dm
▼

cm
▼

mm
▼

.....

6] En t'aidant d'un tableau, complète...

1 mètre = cm

1cm 4mm = mm

1m 2dm =cm

1 mètre = dm

10 cm 6mm =mm

10m 2dm =cm

1 mètre = mm

1dm 6mm =mm

15m =cm

24cm =mm

3m 7cm =cm

