



Mon nom :

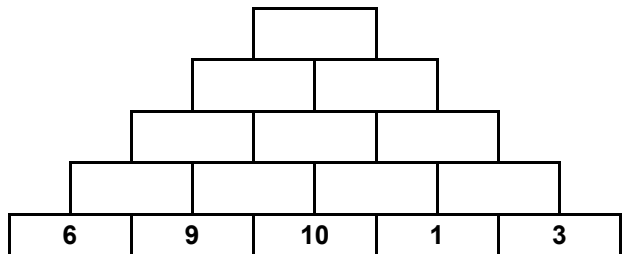
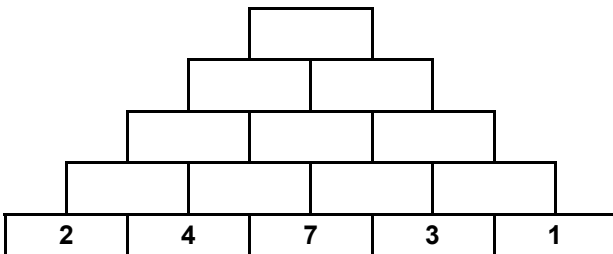
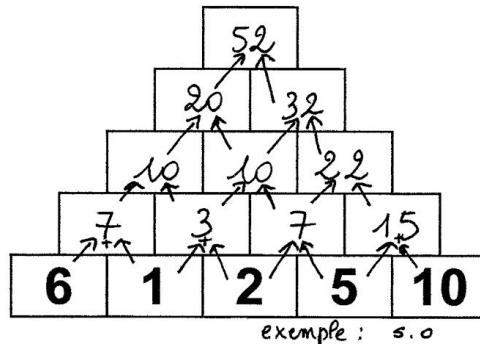
.....

Cette fiche devra être terminée pour le

.....

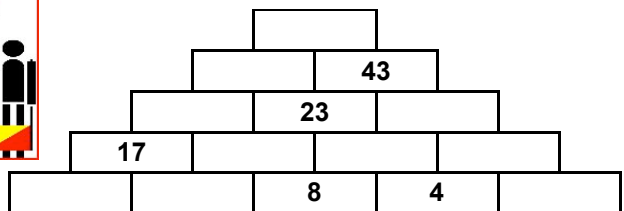
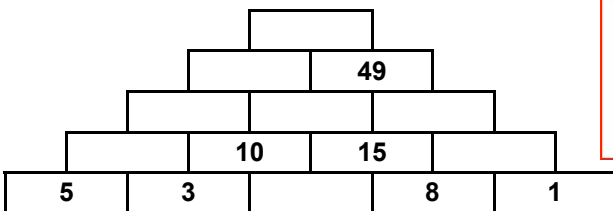
1 : Les pyramides

Le nombre écrit dans chaque rectangle est égal à la somme des 2 nombres inscrits dans les 2 rectangles qui sont juste en dessous.



Attention ! Tu dois commencer par remplir les cases que tu peux compléter !

Trouve les nombres qui manquent ...



2 : Observe ce pavage et continue puis colorie-le avec des crayons de couleur. Utilise toujours la même couleur pour chacune des parties.

