



Espace et Géométrie

note globale

Note	NA	ECA	A
/20			
/3	A	ECA	NA

Ex. 1

Je sais écrire les mots importants de la leçon.

M

Deux droites perpendiculaires – parallélisme – deux droites parallèles – une droite parallèle à une autre – l'écartement – un segment – 2 segments perpendiculaires à l'une des droites.

Ex. 2

Je sais vérifier que deux droites sont parallèles

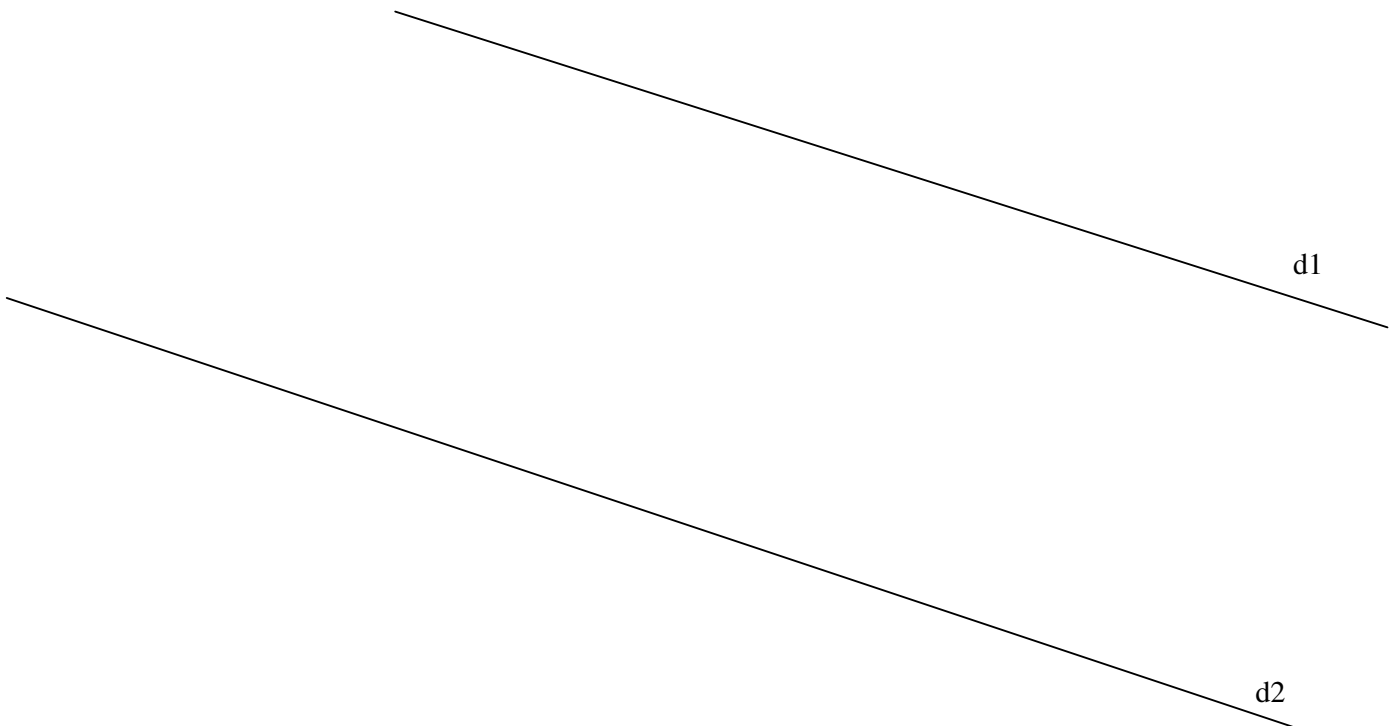
M

/7	A	ECA	NA
----	---	-----	----

A- Je numérote dans l'ordre les actions à réaliser : ... / 1

- Je compare les écartements avec le compas. • • 1
- Je dis si les droites sont parallèles ou non. • • 2
- Je trace deux segments perpendiculaires à l'une des droites. • • 3

B- Je vérifie que les droites d1 et d2 sont parallèles: ... / 6



Conclusion :

Les deux droites d1 et d2

On écrit d1 ... d2

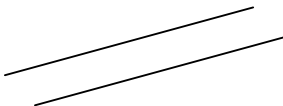
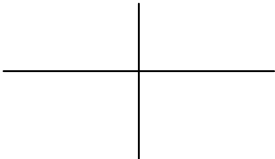
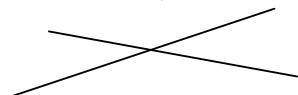
Ex. 3	Je sais tracer deux droites d1 et d2 parallèles avec un écartement de 4 cm.	M				
			/ 7	A	ECA	NA

A- Je numérote dans l'ordre les actions à réaliser : ... / 1

- Sur chaque segment, je place un point situé à 4cm de d1.* • • 1
- Je trace une droite d1.* • • 2
- Je trace deux segments perpendiculaires à la droite d1.* • • 3
- Je trace la droite d2 passant par les deux points situés à 4cm de d1* • • 4

B- Je trace deux droites d1 et d2 parallèles avec un écartement de 4 cm. ... / 6

Ex. 4	Je connais le vocabulaire spécifique.	M				
			/ 3	A	ECA	NA

-  • • Deux droites se croisent de façon quelconque.
-  • • Deux droites perpendiculaires.
-  • • Deux droites parallèles

