

École :

Classe :

**feuille réponse**

**niveau 1**

*L'enseignant peut donner son avis et faire des remarques au dos de cette feuille.*

Total de points



**1 - ÂGES MYSTÉRIEUX**

Âge de Leïla : .....

Âge d'Ismaël : .....

**2 - PETIT CUBE DEVIENDRA GRAND**

Ali a utilisé ..... petits cubes.

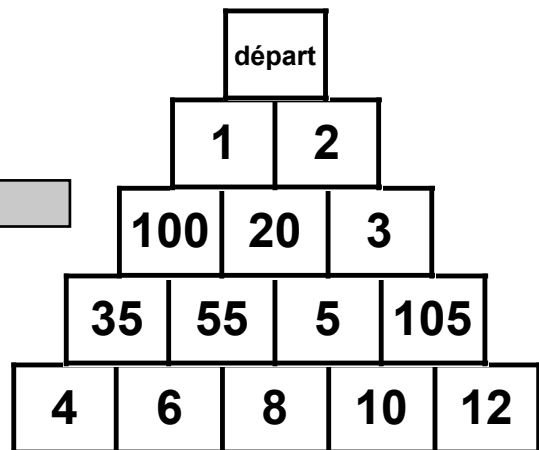
**3 - A CHACUN SON ÉTAGE**

Complétez le dessin de l'immeuble.

3	
2	
1	
0	

**4 - L'OMBRE DU VOLEUR**

Collez votre solution au dos de cette feuille .



**5 - LA PYRAMIDE**

Coloriez le trajet de votre solution.

**6 - LES CODES SECRETS**

le plus grand nombre >

--	--	--	--

le plus petit nombre >

--	--	--	--

**7 - PUZZLE AVEC 4 CUBES**

Faites les dessins au dos de cette feuille.

**8 - LES PRIX DU MARCHÉ**



Une orange coûte : ..... khnurks

Une banane coûte : ..... khnurks



**9 - UN GRAND NOMBRE D'ÉTIQUETTES**

Écrivez les nombres en lettres


Le plus grand nombre que vous pouvez écrire :

> .....

Le plus petit nombre que vous pouvez écrire :

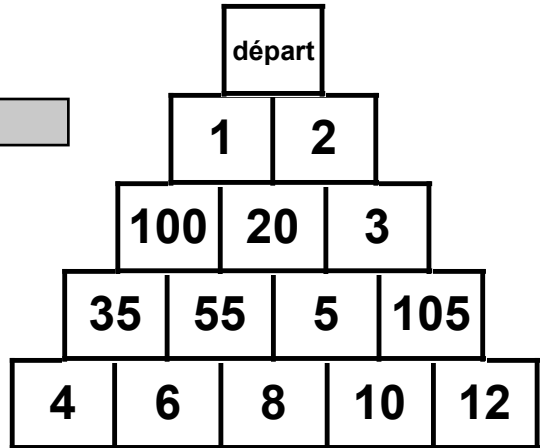
> .....

École :

Total de points 

**5 - LA PYRAMIDE**

*Coloriez le trajet de votre solution.*



**6 - LES CODES SECRETS**

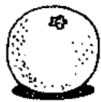
le plus grand nombre >

le plus petit nombre >

**7 - PUZZLE AVEC 4 CUBES**

*Faites les dessins au dos de cette feuille.*

**8 - LES PRIX DU MARCHÉ**



Une orange coûte : ..... khnurks

Une banane coûte : ..... khnurks



**9 - UN GRAND NOMBRE D'ÉTIQUETTES**

Le plus grand nombre que vous pouvez écrire :

> .....

Le plus petit nombre que vous pouvez écrire :

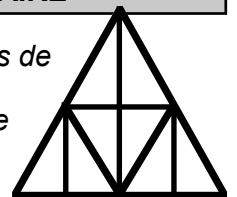
> .....

**10 - YASMINA-LA-RUSÉE**

*Écrivez les deux nombres*

**11 - LE TAPIS TRIANGULAIRE**

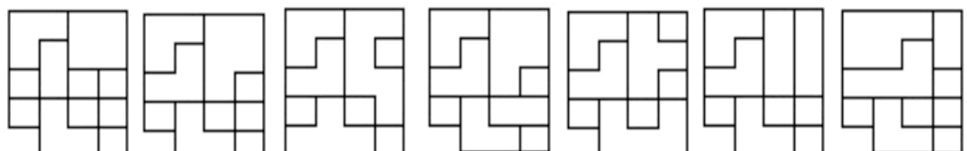
*Utilisez les grilles de tapis.  
Voir en anexe*



**12 - DES CHIFFRES ... DES LETTRES** *Écrivez le nombre en lettres*

**13 - ÇA PLANE POUR ALI BABA**

*Coloriez le plan du Palais .*



**A B C D E F G**



**9 - UN GRAND NOMBRE D'ÉTIQUETTES**

Le plus grand nombre que vous pouvez écrire :

> .....

Le plus petit nombre que vous pouvez écrire :

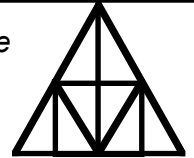
> .....

**10 - YASMINA-LA-RUSÉE**

Écrivez les deux nombres


**11 - LE TAPIS TRIANGULAIRE**

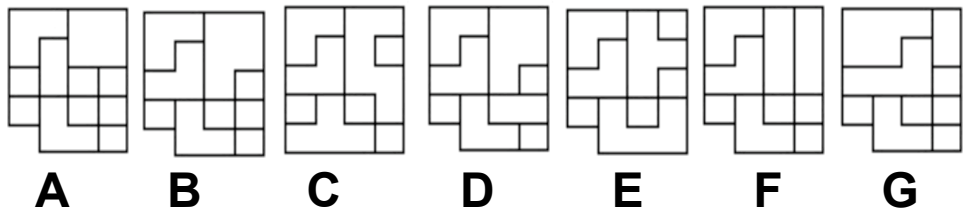
Utilisez les grilles de tapis.  
Voir en anexe



**12 - DES CHIFFRES ... DES LETTRES** Écrivez le nombre en lettres

**13 - ÇA PLANE POUR ALI BABA**

Coloriez le plan du Palais .



**14 - TROIS DROMADAIRES GOURMANDS**

Les dromadaires vont pouvoir se nourrir pendant ..... jours.

explication

**15 - DÉCOUPER UN CARRÉ**

Coloriez les 4 parties avec des couleurs différentes.

1	4	3	2
2	3	1	1
4	3	2	3
2	1	4	4

**16 - UN CODE PAS TELLEMENT SECRET**

Écrivez le plus petit code

**17 - DES TRACES SUR LE CARRELAGE !**

**Pour colorier**

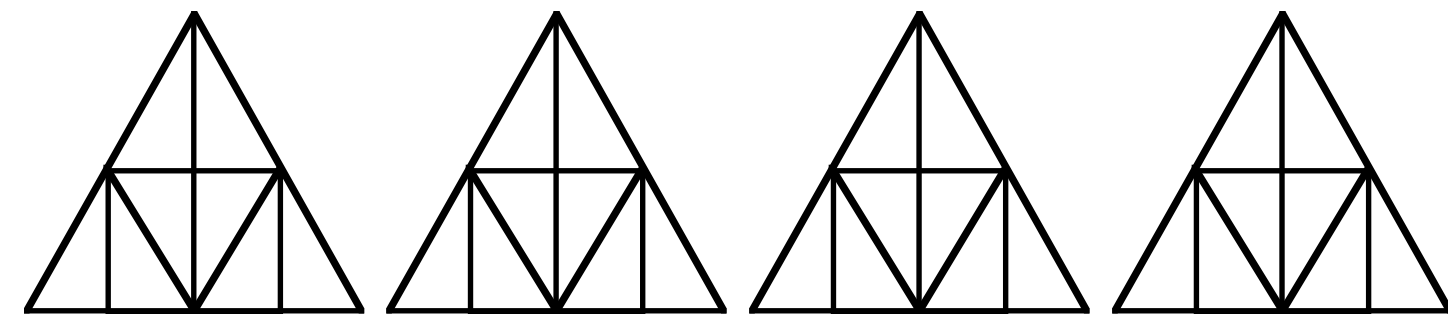
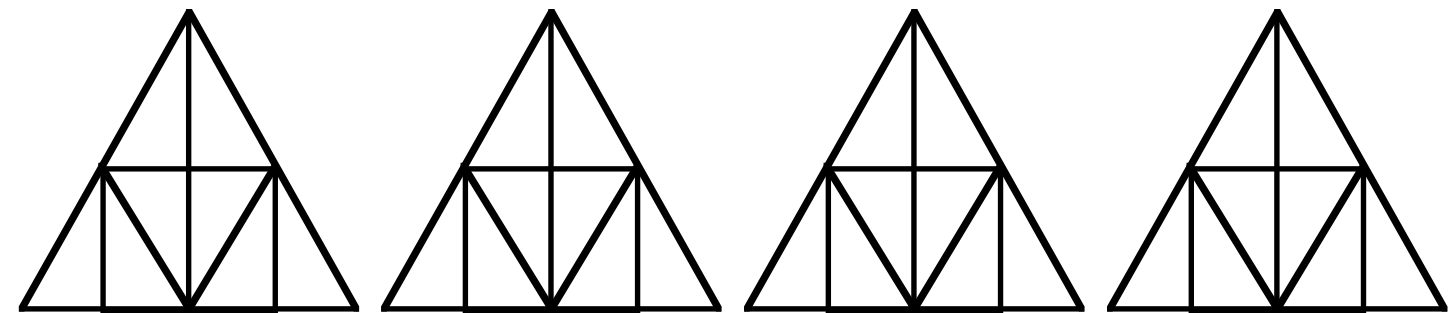
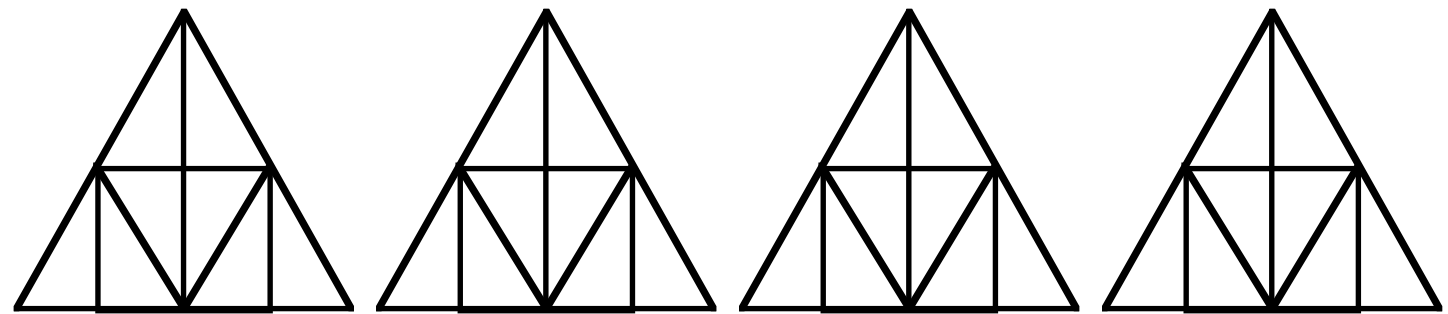
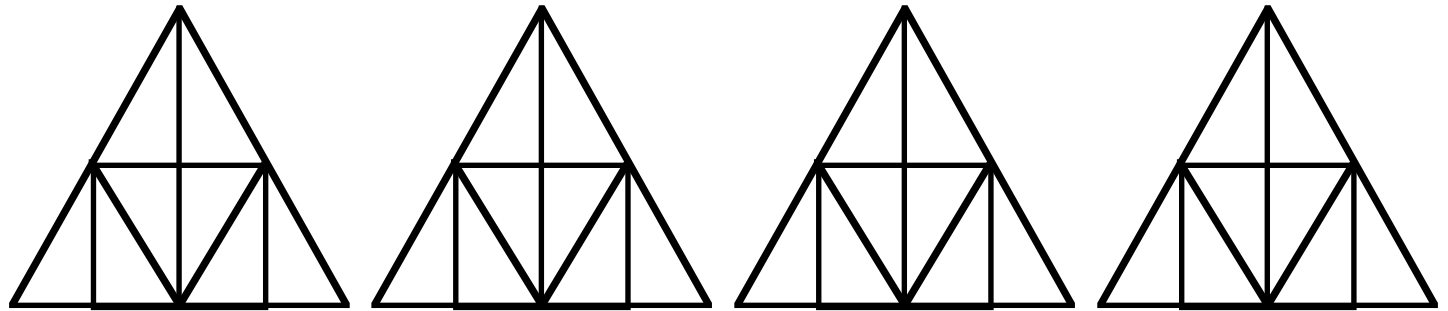
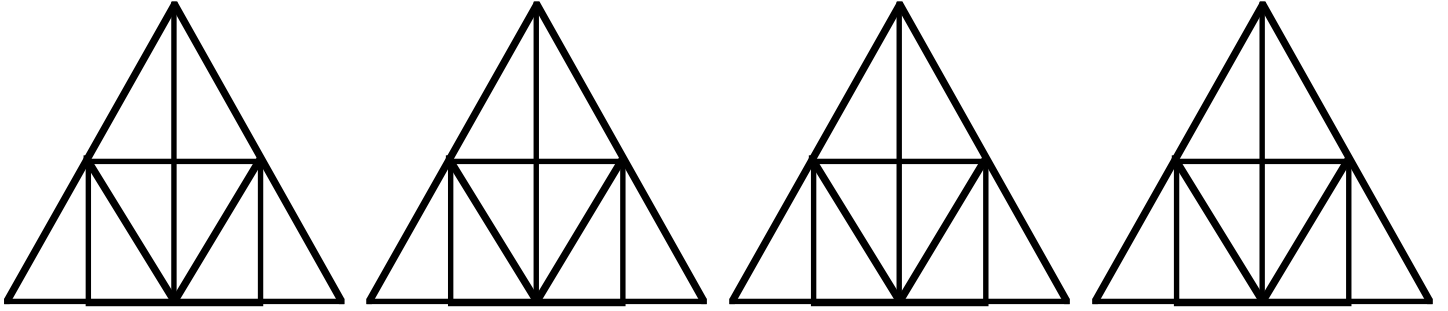
- ceux qui usent le plus votre feutre : .....
- ceux qui usent le moins votre feutre : .....

**Pour écrire**

- ceux qui usent le plus votre stylo : .....
- ceux qui usent le moins votre stylo : .....

École :

Classe :



École :

Classe :

4 - L'OMBRE DU VOLEUR

