

École :

Classe :

feuille réponse

niveau 1

L'enseignant peut donner son avis et faire des remarques au dos de cette feuille.

Total de points



1 - CARREMENT FACILE

Utilisez la grille. Annexe 1

Il y a carrés.

2 - L'ANE D'ALI

PREMIERE SOLUTION

DEUXIEME SOLUTION

Faites des schémas

3 - UN SIGNE QUI CHANGE TOUT

Complétez les opérations qui répondent à l'énigme 3.

$$\begin{array}{r} \dots \dots \\ + \quad 2 \\ \hline \dots \quad 9 \end{array}$$

$$\begin{array}{r} \dots \dots \\ \times \quad 2 \\ \hline \dots \quad 9 \end{array}$$

A = ...

B = ...

4 - PLUS GRAND, PLUS PETIT



le plus grand avec un 1



le plus petit avec un 3

5 - CUBE PERCÉ

Dans le cube de la figure 2, il reste petits cubes.

6 - JEU DE CAILLOUX

Expliquez votre solution pour faire 70

7 - SANS LEVER LE CRAYON

Faites le dessin au dos de cette feuille. Indiquez votre départ. On doit comprendre le chemin que vous suivez.

8 - MESSAGE A DORMIR DEBOUT

Complétez la grille secrète

...
...
...

Le message caché est :

9 - TRIPLE ZÉRO !

Écrivez les nombres qui peuvent correspondent à l'énigme.


École :

Classe :

**feuille réponse
niveau 2**

L'enseignant peut donner son avis et faire des remarques au dos de cette feuille.

Total de points



5 - CUBE PERCÉ

Dans le cube de la figure 2, il reste petits cubes.

6 - JEU DE CAILLOUX

Expliquez votre solution pour faire 70

7 - SANS LEVER LE CRAYON

Faites le dessin au dos de cette feuille. Indiquez votre départ. On doit comprendre le chemin que vous suivez.

8 - MESSAGE A DORMIR DEBOUT

Complétez la grille secrète

...
...
...

Le message caché est :

9 - TRIPLE ZÉRO !

Écrivez les nombres qui peuvent correspondent à l'énigme.


10 - OÙ EST YASMINA ?

Complétez **TOUTES** les cases.



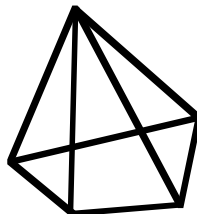
palais du Calife

--	--	--	--



11 - LES TRIANGLES

Utilisez la fiche annexe 2.



12 - LA BONNE CASE

Coloriez la bonne case.


25	183	56	84	56	91
93	37	282	33	66	39
38	57	42	46	34	36

13 - TAPIS EN NOIR ET BLANC

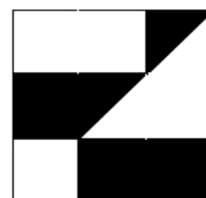
Entourez le tapis le plus noir.




Tapis a



Tapis b



Tapis c



Tapis d

École :

Classe :

feuille réponse

niveau 3

L'enseignant peut donner son avis et faire des remarques au dos de cette feuille.

Total de points



9 - TRIPLE ZÉRO !

Écrivez les nombres qui peuvent correspondre à l'énigme.

10 - OÙ EST YASMINA ?

Complétez **TOUTES** les cases.



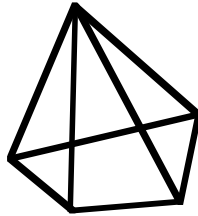
palais du Calife

--	--	--	--



11 - LES TRIANGLES

Utilisez la fiche annexe 2.



12 - LA BONNE CASE

Coloriez la bonne case.


25	183	56	84	56	91
93	37	282	33	66	39
38	57	42	46	34	36

13 - TAPIS EN NOIR ET BLANC


Entourez le tapis le plus noir.




Tapis a



Tapis b



Tapis c



Tapis d

14 - LES COFFRES A TRÉSOR

	Ali	Baya	Camel	Daoud	Elias
couleur du coffre					

15 - RAYON BRICOLAGE

Collez votre travail au dos de la feuille.

17 - DES LETTRES AU POINT

Le prénom qui vaut 8 points est :

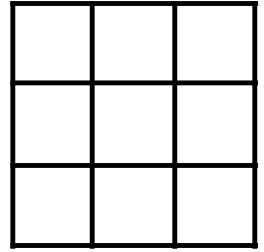
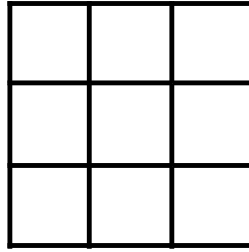
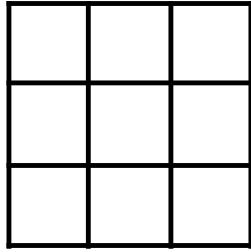
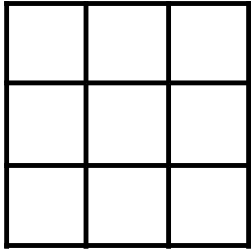
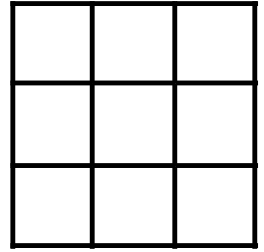
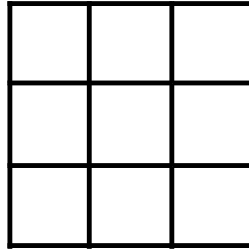
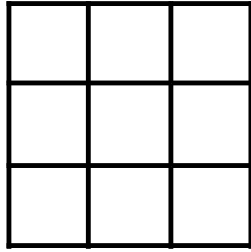
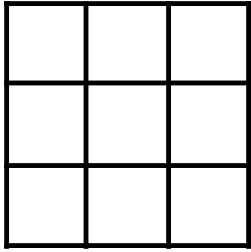
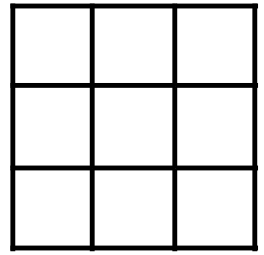
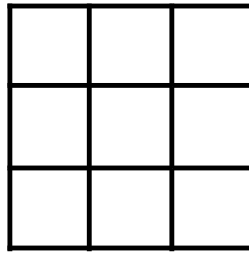
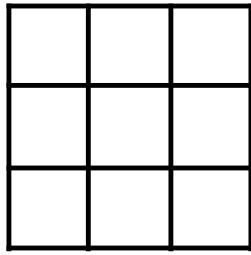
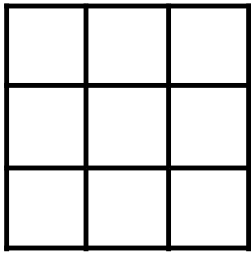
.....

16 - UN NOMBRE A DEVINER

Le nombre à trouver est :

Expliquez :

1 - CARRÉMENT FACILE



11 - LES TRIANGLES

